



Prova Escrita de Matemática Aplicada às Ciências Sociais

10.º e 11.º Anos de Escolaridade

Prova 835/1.ª Fase

13 Páginas

Duração da Prova: 150 minutos. Tolerância: 30 minutos.

2013

Página em branco

Utilize apenas caneta ou esferográfica de tinta indelével, azul ou preta, exceto nas respostas que impliquem a elaboração de construções, de desenhos ou de outras representações, que podem ser primeiramente elaborados a lápis, sendo a seguir passados a tinta.

Utilize a régua, o compasso, o esquadro, o transferidor e a calculadora gráfica sempre que for necessário.

Não é permitido o uso de corretor. Em caso de engano, deve riscar de forma inequívoca aquilo que pretende que não seja classificado.

Escreva de forma legível a numeração dos grupos e dos itens, bem como as respetivas respostas. As respostas ilegíveis ou que não possam ser claramente identificadas são classificadas com zero pontos.

Para cada item, apresente apenas uma resposta. Se escrever mais do que uma resposta a um mesmo item, apenas é classificada a resposta apresentada em primeiro lugar.

Em todas as respostas, indique todos os cálculos que tiver de efetuar e todas as justificações necessárias.

Atenção: quando, para um resultado, não for pedida a aproximação, apresente sempre o **valor exato**.

Sempre que, na resolução de um problema, recorrer à calculadora, apresente todos os elementos recolhidos na sua utilização. Mais precisamente, sempre que recorrer:

- às potencialidades gráficas da calculadora, apresente o(s) gráfico(s) obtido(s), bem como as coordenadas dos pontos relevantes para a resolução do problema proposto (por exemplo, coordenadas de pontos de intersecção de gráficos, máximos ou mínimos);
- a uma tabela obtida na calculadora, apresente todas as linhas da tabela relevantes para a resolução do problema proposto;
- a estatísticas obtidas na calculadora (por exemplo, média, desvio padrão, coeficiente de correlação, declive ou ordenada na origem de uma reta de regressão), apresente a(s) lista(s) que introduziu na calculadora para as obter.

A prova inclui, nas páginas 4 e 5, o Formulário.

As cotações dos itens encontram-se no final do enunciado da prova.

Formulário

Teoria Matemática das Eleições

Conversão de votos em mandatos, utilizando o método de representação proporcional de Hondt

O número de votos apurados por cada lista é dividido, sucessivamente, por 1, 2, 3, 4, 5, etc., sendo os quocientes alinhados, pela ordem decrescente da sua grandeza, numa série de tantos termos quantos os mandatos atribuídos ao círculo eleitoral em causa; os mandatos pertencem às listas a que correspondem os termos da série estabelecida pela regra anterior, recebendo cada uma das listas tantos mandatos quantos os seus termos na série; no caso de só ficar um mandato por distribuir e de os termos seguintes da série serem iguais e de listas diferentes, o mandato cabe à lista que tiver obtido o menor número de votos.

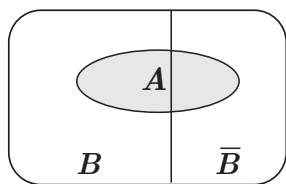
Modelos de Grafos

Condição necessária e suficiente para que um grafo conexo admita circuitos de Euler

Um grafo conexo admite circuitos de Euler se e só se todos os seus vértices forem de grau par.

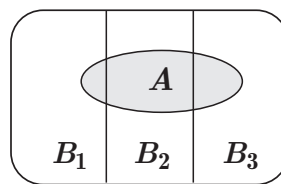
Probabilidades

Teorema da Probabilidade Total e Regra de Bayes



$$P(A) = P(A \cap B) + P(A \cap \bar{B}) = \\ = P(B) \times P(A | B) + P(\bar{B}) \times P(A | \bar{B})$$

$$P(B | A) = \frac{P(A \cap B)}{P(A)} = \\ = \frac{P(B) \times P(A | B)}{P(B) \times P(A | B) + P(\bar{B}) \times P(A | \bar{B})}$$



$$P(A) = P(A \cap B_1) + P(A \cap B_2) + P(A \cap B_3) = \\ = P(B_1) \times P(A | B_1) + P(B_2) \times P(A | B_2) + P(B_3) \times P(A | B_3)$$

$$P(B_k | A) = \frac{P(A \cap B_k)}{P(A)} = \\ = \frac{P(B_k) \times P(A | B_k)}{P(B_1) \times P(A | B_1) + P(B_2) \times P(A | B_2) + P(B_3) \times P(A | B_3)}$$

podendo k tomar os valores 1, 2 ou 3

Intervalos de Confiança

Intervalo de confiança para o valor médio μ de uma variável normal X , admitindo que se conhece o desvio padrão da variável

$\left[\bar{x} - z \frac{\sigma}{\sqrt{n}}, \bar{x} + z \frac{\sigma}{\sqrt{n}} \right]$
<p>n – dimensão da amostra \bar{x} – média amostral σ – desvio padrão da variável z – valor relacionado com o nível de confiança (*)</p>

Intervalo de confiança para o valor médio μ de uma variável X , admitindo que se desconhece o desvio padrão da variável e que a amostra tem dimensão superior a 30

$\left[\bar{x} - z \frac{s}{\sqrt{n}}, \bar{x} + z \frac{s}{\sqrt{n}} \right]$
<p>n – dimensão da amostra \bar{x} – média amostral s – desvio padrão amostral z – valor relacionado com o nível de confiança (*)</p>

Intervalo de confiança para uma proporção p , admitindo que a amostra tem dimensão superior a 30

$\left[\hat{p} - z \sqrt{\frac{\hat{p}(1-\hat{p})}{n}}, \hat{p} + z \sqrt{\frac{\hat{p}(1-\hat{p})}{n}} \right]$
<p>n – dimensão da amostra \hat{p} – proporção amostral z – valor relacionado com o nível de confiança (*)</p>

(*) Valores de z para os níveis de confiança mais usuais

Nível de confiança	90%	95%	99%
z	1,645	1,960	2,576

1. Na escola de Bicas, os métodos eleitorais são aplicados na seleção das atividades da escola.

1.1. Os alunos da escola de Bicas têm de escolher o tema dos trabalhos da semana cultural. Os alunos podem escolher os temas seguintes: *Bullying*, *Solidariedade* ou *Festas*.

Cada aluno deve ordenar, uma única vez, os três temas de acordo com as suas preferências. A ordenação efetuada por cada aluno corresponde a um voto. Foram apurados 985 votos válidos.

Na Tabela 1, encontram-se organizados os resultados obtidos.

Tabela 1

	415 votos	370 votos	200 votos
1.ª preferência	<i>Bullying</i>	Solidariedade	Festas
2.ª preferência	Solidariedade	Festas	<i>Bullying</i>
3.ª preferência	Festas	<i>Bullying</i>	Solidariedade

A escolha do tema dos trabalhos da semana cultural é feita usando o método seguinte.

- Para que um voto possa ser considerado válido, cada aluno ordena, uma única vez, os temas de acordo com as suas preferências.
- Na ordenação final dos temas, cada primeira preferência recebe tantos pontos quantos os temas em votação.
- Cada segunda preferência recebe menos um ponto do que a primeira, e assim sucessivamente, recebendo a última preferência um ponto.
- É escolhido o tema com maior número de pontos.

Antes de anunciar o tema escolhido, a diretora da escola excluiu o tema *Festas*, não alterando os números de votos nem a ordem de cada uma das preferências (Tabela 1).

Verifique se o tema escolhido se mantém, aplicando o método de escolha acima descrito aos dois casos:

- incluindo o tema *Festas*;
- excluindo o tema *Festas*.

1.2. A organização da exposição dos trabalhos da semana cultural é feita por uma comissão de 20 alunos do ensino secundário da escola de Bicas.

A Tabela 2 apresenta o número de alunos de cada ano de escolaridade na escola de Bicas.

Tabela 2

Ano de escolaridade	10.º	11.º	12.º
Número de alunos	140	120	160

Os 20 lugares da comissão foram distribuídos usando o método seguinte.

- Calcula-se o divisor padrão, dividindo-se o número total de alunos do ensino secundário pelo número total de lugares na comissão.
- Calcula-se a quota padrão para cada um dos anos de escolaridade, dividindo-se o número de alunos de cada ano de escolaridade pelo divisor padrão.
- Se a parte decimal da quota padrão de um ano de escolaridade for menor do que 0,5, atribui-se a esse ano de escolaridade uma quota arredondada igual ao maior número inteiro menor do que a quota padrão; se a parte decimal da quota padrão de um ano de escolaridade for maior do que ou igual a 0,5, atribui-se a esse ano de escolaridade uma quota arredondada igual ao resultado da adição de 1 com o maior número inteiro menor do que a quota padrão.
- Caso a soma das quotas arredondadas seja igual à soma dos lugares a distribuir, o método dá-se por finalizado, e assume-se que o número de lugares para cada ano de escolaridade é igual à quota arredondada; caso a soma das quotas arredondadas seja diferente do número de lugares a distribuir, é necessário encontrar um divisor modificado, substituto do divisor padrão, de modo a calcular a quota padrão modificada de cada ano de escolaridade.
- Repetem-se os três pontos anteriores até se obter a soma das quotas modificadas arredondadas igual ao número de lugares a distribuir.

Na primeira aplicação deste método, a soma das quotas arredondadas foi diferente do número de lugares a distribuir.

Determine a distribuição dos 20 lugares, depois de encontrar um divisor modificado.

Apresente o divisor modificado com uma casa decimal e as quotas padrão modificadas arredondadas com três casas decimais.

2. Com o objetivo de rentabilizar as suas poupanças, a Carla pesquisou na Internet instituições financeiras da localidade de Bicas.

2.1. A instituição financeira PIPA oferece a garantia da obtenção de 1680 euros por um depósito inicial de 1500 euros, em regime de juros simples, num prazo de aplicação igual a seis meses, com uma taxa de juro trimestral.

Segundo essa instituição financeira, o capital final é dado pela expressão seguinte.

$$C_n = C + C \times n \times i$$

C_n – capital final

C – capital inicial

n – número de períodos de capitalização (períodos de tempo iguais e adjacentes em que a duração de uma aplicação financeira pode ser dividida)

i – taxa de juro referente ao período de capitalização

Determine a taxa de juro trimestral que a instituição PIPA propõe para o depósito inicial de 1500 euros, tendo em consideração a garantia oferecida pela instituição.

Apresente o resultado na forma de percentagem.

2.2. A instituição financeira POUPA oferece aos seus clientes uma solução de rentabilidade que permite fazer depósitos por um período alargado de tempo.

A Tabela 3 apresenta o capital no final de cada mês em duas contas, X e Y , dessa instituição, ao longo de 6 meses, com depósitos iniciais de 1500 euros em cada uma das contas, efetuados no mesmo dia.

Tabela 3

	Final do 1.º mês	Final do 2.º mês	Final do 3.º mês	Final do 4.º mês	Final do 5.º mês	Final do 6.º mês
Conta X	1520	1540	1560	1580	1600	1620
Conta Y	1515	1530,15	1545,45	1560,91	1576,52	1592,28

A Carla afirma que:

«Se efetuar, no mesmo dia, depósitos iniciais de 1500 euros em cada uma das contas, X e Y , o capital na conta Y ultrapassa o capital na conta X entre o 56.º mês e o 57.º mês após os depósitos iniciais.»

Mostre que a Carla tem razão, considerando que as condições apresentadas pela Tabela 3 se mantêm por um período alargado de tempo.

Na sua resposta, deve:

- indicar um modelo que se ajuste à evolução da conta X ;
- indicar um modelo que se ajuste à evolução da conta Y ;
- mostrar que o capital oferecido pela conta Y passa a ser superior ao capital oferecido pela conta X a partir de um certo mês, recorrendo à representação gráfica, numa janela de visualização adequada;
- concluir que a Carla tem razão.

2.3. A instituição financeira PAGABEM vende aplicações no fundo GANHAR+ com um grau de incerteza na obtenção de rendimento.

Admita que, em cada dia, o número N de aplicações feitas no fundo GANHAR+, em função do período de capitalização x , em meses, é bem aproximado pelo modelo seguinte, com arredondamento às unidades.

$$N(x) = \frac{30}{1 + 16 \times e^{-1,15x}} \quad (x = 1, 2, \dots)$$

2.3.1. Determine o número de aplicações feitas no fundo GANHAR+, num certo dia, por um período de capitalização igual a 10 meses, de acordo com o modelo apresentado.

Apresente o resultado arredondado às unidades.

Caso proceda a arredondamentos nos cálculos intermédios, conserve, no mínimo, três casas decimais.

2.3.2. No dia 3 de setembro de 2012, no fundo GANHAR+ existiam apenas duas possibilidades para o período de capitalização, 3 meses ou 6 meses, tendo sido feitas 50 aplicações nesse dia.

Sabe-se que:

- a probabilidade de obter rendimento é 76% quando a aplicação no fundo GANHAR+ é feita por um período de capitalização igual a 3 meses;
- a probabilidade de obter rendimento é 92% quando a aplicação no fundo GANHAR+ é feita por um período de capitalização igual a 6 meses.

Escolheu-se, ao acaso, uma aplicação no fundo GANHAR+ no dia 3 de setembro de 2012.

Determine a probabilidade de a aplicação escolhida ter um período de capitalização igual a 3 meses, sabendo que obteve rendimento.

Apresente o resultado na forma de fração irredutível.

3. Considere que o André, um aluno do 11.º ano da escola de Bicas, se inscreveu num torneio de xadrez e pode ter um adversário de uma de três aldeias distintas: A , B ou C .

A probabilidade de ter um adversário da aldeia A é $0,05$, a probabilidade de ter um adversário da aldeia B é $0,70$ e a probabilidade de ter um adversário da aldeia C é $0,25$

Sejam V , A , B e C os acontecimentos seguintes.

V : «vencer uma partida»;

A : «o adversário ser da aldeia A »;

B : «o adversário ser da aldeia B »;

C : «o adversário ser da aldeia C ».

Sabe-se que:

- $P(V|A) = 0,3$
- $P(V|B) = 0,4$
- $P(V|C) = 0,5$

- 3.1. Complete a Tabela 4, a partir dos dados apresentados, usando probabilidades.

Reproduza a tabela na folha de respostas e apresente todos os cálculos efetuados.

Tabela 4

Acontecimentos	A	B	C	Total
V	(1)			
\bar{V}				
Total	0,05	0,70	0,25	1

(1) Nesta célula da tabela, por exemplo, deve considerar a probabilidade conjunta de vencer uma partida e de o adversário ser da aldeia A .

- 3.2. Considere, agora, que os participantes da aldeia A não compareceram.

A probabilidade de o André ter um adversário da aldeia B passou para $0,72$, e a probabilidade de ter um adversário da aldeia C passou para $0,28$, não se alterando $P(V|B)$ nem $P(V|C)$

Determine a probabilidade de o André vencer uma partida.

4. Na Tabela 5, é apresentado o número de filhos de uma amostra de 200 sócios do Grupo Desportivo de Bicas (GDB).

Tabela 5

Número de filhos	1	2	3	4	5
Frequência absoluta acumulada	78	166	184	196	200

Na Tabela 6, é apresentado o número de filhos de uma amostra de 200 sócios do Grupo Desportivo de Altivo (GDA).

Tabela 6

Número de filhos	1	2	3	4	5
Frequência absoluta simples	66	46	38	38	12

- 4.1. Construa uma tabela de frequências absolutas e relativas para os dados apresentados na Tabela 5, determinando as frequências absolutas simples e as frequências relativas simples e acumuladas.
- 4.2. Admita que houve um erro na transcrição da Tabela 6 e que o número de filhos deveria ser 0, 1, 2, 3 e 4, em vez de 1, 2, 3, 4 e 5, respetivamente.

Explique as repercussões desse erro na média e no desvio padrão do número de filhos dos 200 sócios do GDA.

Na sua resposta, deve:

- determinar a média e o desvio padrão com os dados da Tabela 6;
- determinar a média e o desvio padrão com os dados corrigidos;
- concluir.

Apresente os valores dos desvios padrão arredondados com uma casa decimal.

Caso proceda a arredondamentos nos cálculos intermédios, conserve, no mínimo, quatro casas decimais.

- 4.3. O intervalo $]0,34958; 0,53042[$ é um intervalo de confiança para a proporção de sócios do GDA com, pelo menos, 3 filhos (dados da Tabela 6).

Determine o nível de confiança desse intervalo.

Caso proceda a arredondamentos nos cálculos intermédios, conserve, no mínimo, seis casas decimais e considere o valor de z arredondado com três casas decimais.

5. Um arquiteto organizou o recinto destinado à realização de uma conferência internacional de arte (Figura 1). O recinto tem os seguintes espaços: auditório, cantina, espaço de debate, exposição, pátio e teatro.

Todos os espaços têm, pelo menos, uma porta.

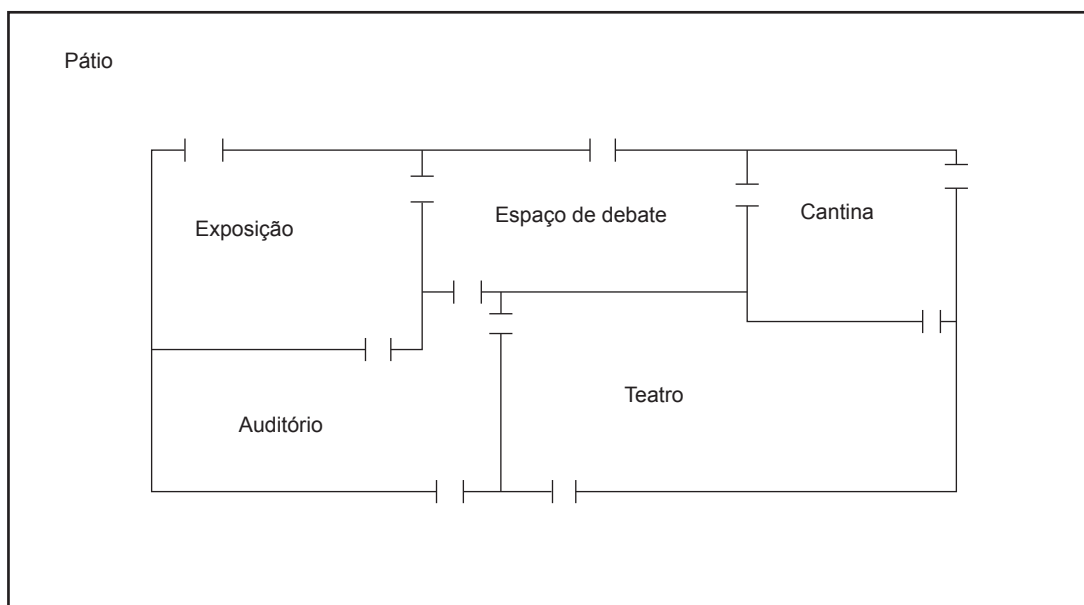


Figura 1

Ao analisar o esquema desenhado pelo arquiteto (Figura 1), uma funcionária comentou que, caso se mantivesse o número de portas, não conseguiria efetuar uma ronda ao recinto começando e terminando essa ronda na cantina, percorrendo todas as portas e passando por cada porta uma única vez.

A funcionária pretendeu, então, encontrar uma solução que lhe permitisse efetuar essa ronda percorrendo todas as portas e passando o menor número de vezes possível por cada porta.

Determine, justificando, uma solução que permita satisfazer a pretensão da funcionária.

Na sua resposta, deve:

- apresentar um grafo que modele a situação descrita;
- apresentar o significado dos elementos, arestas e vértices, que constituem o grafo;
- apresentar, justificando, uma solução.

FIM

COTAÇÕES

1.		
1.1.	20 pontos
1.2.	20 pontos
		<hr/>
		40 pontos
2.		
2.1.	15 pontos
2.2.	20 pontos
2.3.		
2.3.1.	10 pontos
2.3.2.	20 pontos
		<hr/>
		65 pontos
3.		
3.1.	20 pontos
3.2.	10 pontos
		<hr/>
		30 pontos
4.		
4.1.	15 pontos
4.2.	20 pontos
4.3.	15 pontos
		<hr/>
		50 pontos
5.	15 pontos
		<hr/>
		15 pontos
		<hr/>
	TOTAL	200 pontos